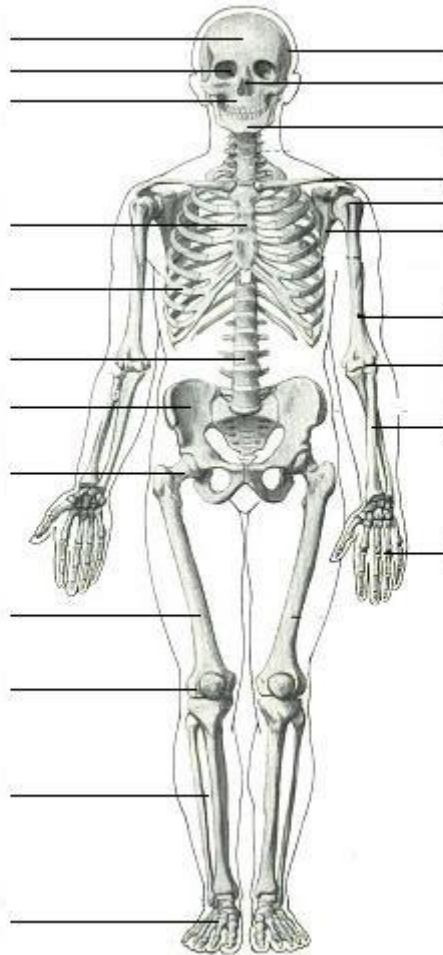


Pracovní list č. 1

BIOLÓGIA pre špeciálne triedy 8. ročník, trieda 8.C

1. Doplň do obrázku kostry nasledujúce názvy kostí: Kľúčna kosť, ramenná kosť, vretenná kosť, lakťová kosť, kostra ruky, chrbtica, rebrá, hrudná kosť, stehenná kosť, píšťala, ihlica, lebka, panva.



2. Svaly a činnosť svalov. Správne tvrdenia o svaloch zakrúžkuj a nesprávne tvrdenia prečiarkni

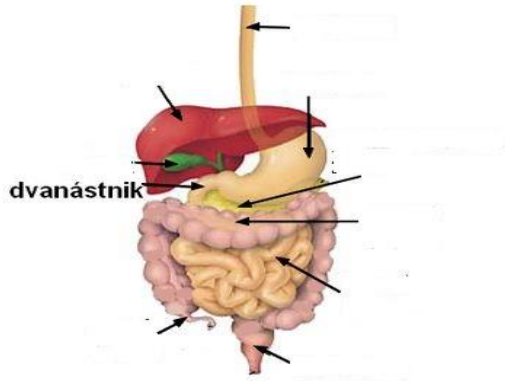
Svaly sú dôležité pre pohyb nášho tela, Pomocou svalov sa usmievame, Svaly sa pri cvičení zmeňujú, Svaly sa pri cvičení zväčšujú, V svaloch sa nenachádza energia, Keď sa unavíme pri cvičení alebo práci nastáva svalová únava, svaly sa nemôžu natrhnúť, svaly ukladajú energiu

3. Tráviaca sústava: Na čo slúži tráviaca sústava, čo získavame z jedla stručne popíš

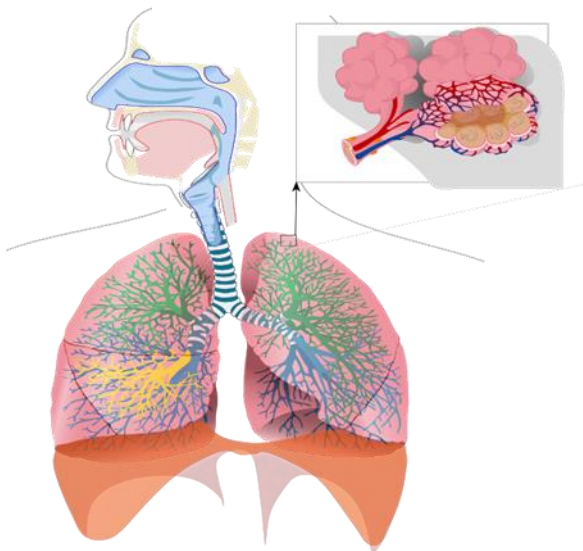
.....
.....
.....

4. Na nasledujúcom obrázku tráviacej sústavy správne dopíš k šípkam : Pažerák, žalúdok, podžalúdková žľaza, pečeň, žlčník, tenké črevo, slepé črevo, hrubé črevo, konečník.

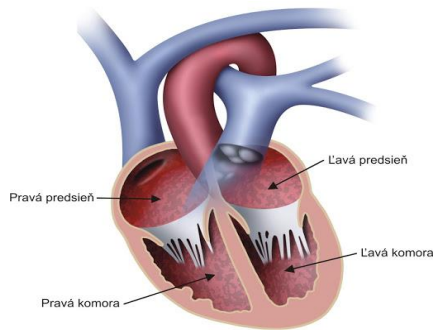
Tráviaca sústava



5. Pri nesprávnej strave, masťné, korenisté jedlá, či pri nepravidelnom stravovaní alebo strese vznikajú rôzne choroby tráviacej sústavy, napíš najčastejšie príznaky týchto chorôb.....
.....
6. Dýchacia sústava, na čo slúži dýchacia sústava , popíš pľúca
.....
.....
7. Na obrázku dýchacej sústavy napíš a označ šípkami kde sa nachádzajú pľúca, priedušnica, nosová dutina.



8. Na obrázku sa nachádza



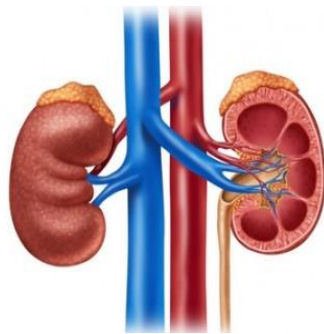
Doplň správne slovíčka zo zátvorky:

Slúži na to aby sa (pumpovala krv do tela, stála krv v tele)

V tele máme cievy v nich je krv tie delíme naa(komory, žily, tepny, pľúca)

Krv obsahuje krvinky, ktoré rozvádzajú kyslík po tele (zelené, červené, žlté)

9. Čo sa nachádza na nasledujúcom obrázku :



tento párový orgán sa volá

V nich sa tvorí (krv, moč, krvinky, stolica, sliny)

10. Koža je orgánom a chráni nás pred vonkajším prostredím

Napíš aspoň tri zásady ako sa správne staráme o našu kožu

.....
.....