

**PRACOVNÉ LISTY Z MATEMATIKY**

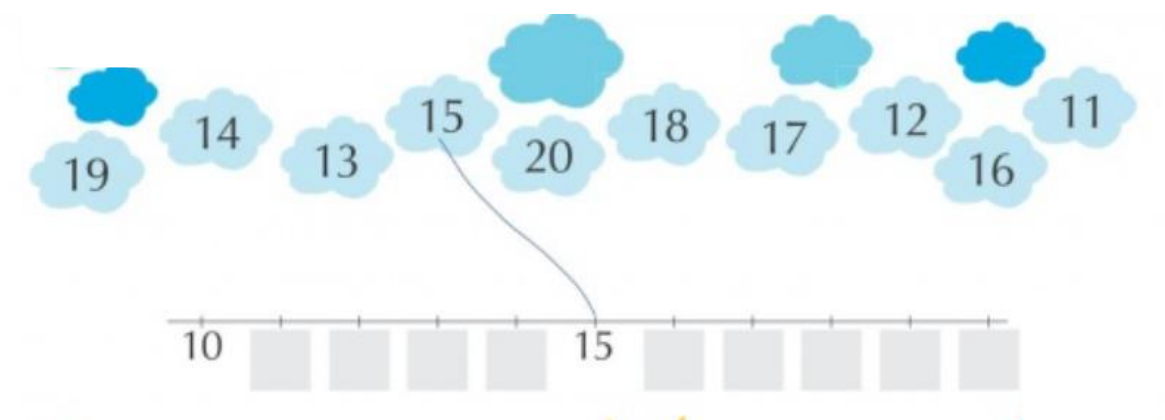
**INTEGROVANÍ ŽIACI**

**25.1. - 29.1.2021**

1. Porovnaj čísla, doplň vhodné znamienko (<, >, =)

$4 \square 9$	$6 \square 2$	$10 \square 9$	$7 \square 10$
$10 \square 10$	$8 \square 3$	$8 \square 10$	$0 \square 5$
$8 \square 9$	$0 \square 10$	$3 \square 6$	$4 \square 2$

2. Usporiadaj čísla na číselnej osi









3. Vypočítaj príklady

$10 + 7 = \square$	$18 - 3 = \square$
$11 + 4 = \square$	$18 - 8 = \square$
$14 + 2 = \square$	$17 - 6 = \square$
$15 + 3 = \square$	$18 - 4 = \square$







  

$14 + 4 = \square$	$18 - 5 = \square$
$12 + 5 = \square$	$17 - 3 = \square$
$15 + 2 = \square$	$19 - 1 = \square$
$17 + 1 = \square$	$13 - 2 = \square$

4. V obchode - vypočítaj príklady s peniazmi.

 10€	 7€	 16€	 3€	 9€	 11€
10€ + 7€ = €	€ + € = €	€ + € = €	€ + € = €	€ + € = €	€ + € = €

 12€	 6€	 15€	 4€	 13€	 3€
€ + € = €	€ + € = €	€ + € = €	€ + € = €	€ + € = €	€ + € = €

5. Vyrieš slovnú úlohu a prepíš ju do zošita.





















Dom má na prízemí 5 okien a na poschodí 4 okná.  
Koľko okien má dom spolu?

--	--	--	--	--

Dom má spolu \_\_\_\_\_ okien.



6. Prepíš si príklady do zošita a vypočítaj ich.

12 + 3 = 	11 + 4 = 	18 - 3 = 	16 - 4 = 
14 + 3 = 	13 + 4 = 	13 - 3 = 	19 - 4 = 
11 + 3 = 	15 + 4 = 	14 - 3 = 	14 - 4 = 
16 + 3 = 	14 + 4 = 	17 - 3 = 	17 - 4 = 
15 + 3 = 	16 + 4 = 	15 - 3 = 	15 - 4 = 

7. Vyrieš slovné úlohy a prepíš si ich do zošita.

Otec natieral plot. 3 latky natrel žltou farbou, 5 latiek červenou farbou a 2 oranžovou farbou. Koľko latiek natrel otec spolu?

--	--	--	--	--	--	--	--



Otec natrel spolu \_\_\_\_\_ latiek.

Stará mama si kúpila obraz za 15 € a misu, ktorá stála menej ako obraz. Koľko mohla stáť misa?

--	--	--	--	--	--

*Dopíš cenu obrazu a misy.*



Misa mohla stáť \_\_\_\_\_ €.

8. Vypočítaj príklady.

+2	8	4	2	0	1	7			
			5						8

-3	8	6	4	10	7		3		
				6	2				

