

5



6



1 Zapiš počet.



5



2 Prečiarkni alebo dokresli do daného počtu.



4



2



5



1



6



2

3 Piš podľa vzoru.

3 2 4 1  
5 5  
6 6

1 a) Ukladaj panáčky po 5.

b) Ukladaj loptičky po 6.

2 Zapiš počet.



3



3 Vyfarbi správne miesto pre panáčika.

3 dots	1	2	3	4	5	6
4 dots	1	2	3	4	5	6
5 dots	1	2	3	4	5	6

6 dots	1	2	3	4	5	6
5 dots	1	2	3	4	5	6
4 dots	1	2	3	4	5	6

4 a) Vyfarbu a kresli podľa vzoru. Použi vždy 5 štvorcov.

b) Vyfarbu a kresli podľa vzoru. Použi vždy 6 štvorcov.





1. Zvieratká prichádzajú do cieľa. Vyfarbi čiapky podľa poradia.



PORADIE  
PRED CIEĽOM

1. je
2. je
3. je
4. je
5. je
6. je

Tretia je . Piata je .

Druhá je . Šiesta je .

Prvá je . Štvrtá je .

2. A takto to nakoniec dopadlo. Počúvaj, piš poradie a vyfarbi čiapky.

skončil 3.    skončil     skončil   
 skončil     skončil     skončil

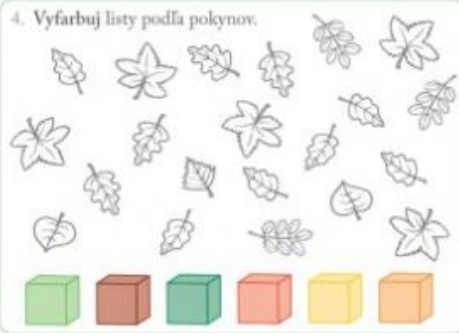
3. Doplní správny výsledok. Môžeš si pomôcť kreslením.

2 A 1 SÚ  .

3 A 2 JE  .

4 A 2 JE  .

4. Vyfarbuj listy podľa pokynov.



5. Povedz príbeh, ako ubudlo. Doplní, koľko zostalo.

DOSTAL	ZJEDOL	MÁ	MAL	STRATIL	OSTALO
		<input type="text"/>			<input type="text"/>
4	-3	<input type="text"/>	5	-4	<input type="text"/>

1. Dokresli podľa pokynov a zapíš počet.



2. Doplní správny výsledok.

4 A 2 =

4 A 2 =

4 A 2 =

4 + 2 =

3. Vypočítaj príklady. Vyfarbi podľa výsledkov.




- 2
- 3
- 4
- 5
- 6

$1 + 5 =$      $2 + 2 =$      $1 + 4 =$      $1 + 3 =$      $2 + 4 =$   
 $3 + 2 =$      $5 + 0 =$      $4 + 1 =$      $5 + 1 =$   
 $6 + 0 =$      $0 + 3 =$      $4 + 2 =$      $1 + 2 =$      $2 + 1 =$      $4 + 0 =$      $1 + 1 =$      $0 + 6 =$

4. Spravidlivo rozdeľ do dvoch pokladničiek.








5. Dokresli malé a veľké repy podľa vzoru.









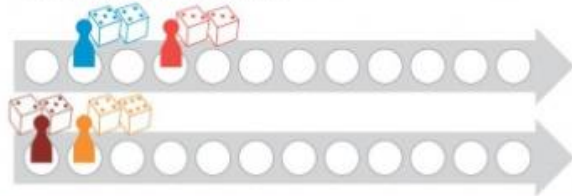
1. Najprv priletajú, potom odlietajú. Koľko ich je? Zapiš do okienka.



	$1 + 3$	<input type="text"/>
	$3 + 1$	<input type="text"/>
	$5 - 1$	<input type="text"/>
	$4 - 3$	<input type="text"/>

	$2 + 3$	<input type="text"/>
	$3 + 2$	<input type="text"/>
	$5 - 3$	<input type="text"/>
	$5 - 2$	<input type="text"/>

2. Kam doskočí panáček? Urob tam farebnú značku. Pozor, hádzalo sa dvoma kockami.




3. Porovnaj čísla.

5	3
4	2
3	4

4. Napiš, koľko kvetov chýba, aby bol daný počet.

 <input type="text"/>	 <input type="text"/>	 <input type="text"/>	 <input type="text"/>
--	--	--	--







5. Počítaj a piš farebné číslice.



1. Obtiahni správne napísané číslice 5. Napiš do okienka čo najkrajšiu číslicu 5.



2. Počítaj, zapiš, vyfarbi. Napiš znaky >, <, =.

 <input type="text"/>	 <input type="text"/>	 <input type="text"/>	 <input type="text"/>	 <input type="text"/>	 <input type="text"/>
--	--	--	--	--	--

3. Ako sa dá rozdeliť 5 kostí 2 vĺčikom? Hľadaj všetky možnosti.





Hádali sa dva vĺčiky o päť kostí, prišiel pudlík, kosti zobral, najedol sa do sýtosti.



 <input type="text"/>	 <input type="text"/>
 <input type="text"/>	 <input type="text"/>
 <input type="text"/>	 <input type="text"/>
 <input type="text"/>	 <input type="text"/>
 <input type="text"/>	 <input type="text"/>
 <input type="text"/>	 <input type="text"/>

4. Počítame keksy. Napiš, koľkokrát sme použili jednotlivé formičky.



 <input type="text"/>	 <input type="text"/>
 <input type="text"/>	 <input type="text"/>
 <input type="text"/>	 <input type="text"/>
 <input type="text"/>	 <input type="text"/>
 <input type="text"/>	 <input type="text"/>