

# MATEMATIKA - PRACOVNÝ LIST č. 1



## 1. Zapiš slovom do zošita

Desať, päťdesiat, dvadsať, sto, sedemdesiat, štyridsať, šesťdesiat, tridsať, osemdesiat, deväťdesiat

.....

## 2. Vypočítaj

$20 + 30 =$	$20 + 80 =$
$80 + 10 =$	$90 + 10 =$
$40 + 30 =$	$30 + 40 =$
$60 + 10 =$	$20 + 50 =$
$0 + 50 =$	$30 + 30 =$

## 3 . Porovnaj čísla

40  90    70  20    50  20    30  30

## 4 . Dopln číselný rad po celých desiatkach

60, \_\_\_\_\_, \_\_\_\_\_, \_\_\_\_\_, 100

40, \_\_\_\_\_, \_\_\_\_\_, \_\_\_\_\_, 80

30, \_\_\_\_\_, \_\_\_\_\_, \_\_\_\_\_, 70

## MATEMATIKA - PRACOVNÝ LIST č. 2



### 1. Vypočítaj

$13 - 4 =$	$11 - 8 =$
$15 - 7 =$	$15 - 9 =$
$13 - 3 =$	$12 - 7 =$
$16 - 9 =$	$17 - 9 =$
$13 - 3 =$	$18 - 8 =$
$12 - 3 =$	$14 - 6 =$

### 2. Dopln správne čísla v číselnom rade

10					15					
----	--	--	--	--	----	--	--	--	--	--

20				16				12		
----	--	--	--	----	--	--	--	----	--	--

### 3. Dopln chýbajúce čísla

$8 + \square = 16$

$12 - \square = 9$

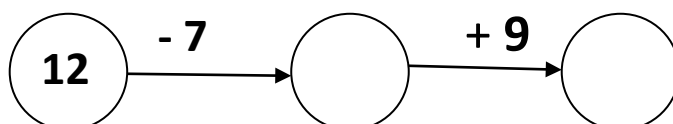
$7 + \square = 18$

$18 - \square = 7$

$9 + \square = 15$

$19 - \square = 8$

### 4. Vypočítaj reťazovku




# MATEMATIKA - PRACOVNÝ LIST č. 3



## 1. Chybné príklady oprav

$6 + 8 = 13$		$15 - 2 = 12$		$7 + 8 = 16$	
$7 + 5 = 11$		$16 - 4 = 13$		$2 + 9 = 11$	
$4 + 9 = 13$		$9 + 7 = 16$		$6 + 6 = 14$	
$12 + 7 = 20$		$19 - 5 = 13$		$5 + 9 = 15$	
$8 + 8 = 18$		$12 + 6 = 19$		$10 + 9 = 20$	

## 2. Rieš slovnú úlohu. Napíš odpoveď do zošita.

Janko mal na kabáte gombíky 

Mal ..... 11  
Odtrhlo sa ..... 4  
Teraz má ..... ?

-  =

---

Janko teraz má  gombíkov.

## 3. Porovnaj čísla

19  15    14  18    20  16    17  17

# MATEMATIKA - PRACOVNÝ LIST č. 4



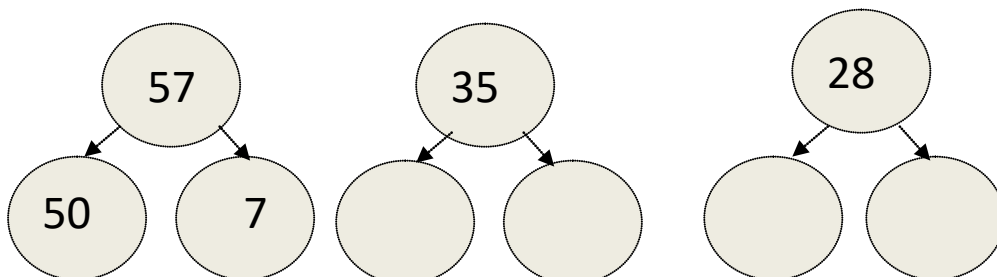
## 1. Vypočítaj

$30 + 20 =$	$50 - 40 =$
$40 + 40 =$	$90 - 80 =$
$20 + 10 =$	$40 - 30 =$
$50 + 20 =$	$90 - 10 =$
$10 + 40 =$	$80 - 20 =$
$30 + 50 =$	$60 - 10 =$
$40 + 10 =$	$70 - 40 =$
$50 + 20 =$	$90 - 90 =$

## 2. Dopln správne celé desiatky v číselnom rade

100			70		50				
-----	--	--	----	--	----	--	--	--	--

## 3. Rozlož čísla na desiatky a jednotky podľa vzoru



## MATEMATIKA - PRACOVNÝ LIST č. 5



### 1. Podľa vzoru dopln chýbajúce číslo

56	57	58
27		29
35		37
64		66
53		55
77		79
45		47
31		33

### 2. Vypočítaj

$10 + 40 =$	$70 - 50 =$
$80 + 10 =$	$60 - 20 =$
$40 + 40 =$	$80 - 60 =$
$10 + 10 =$	$90 - 30 =$
$20 + 50 =$	$50 - 40 =$
$60 + 20 =$	$30 - 30 =$

### 2. Rozlož čísla na desiatky a jednotky

