



CHE 7.A,B

VODA

1. Vymenuj skupenstvá vody a ich formy, v akej sa nachádzajú v prírode:

.....
.....
.....

2.



Napíš, aké percento vody sa nachádza
v ľudskom tele a napíš,
aké funkcie plní voda v organizme človeka:

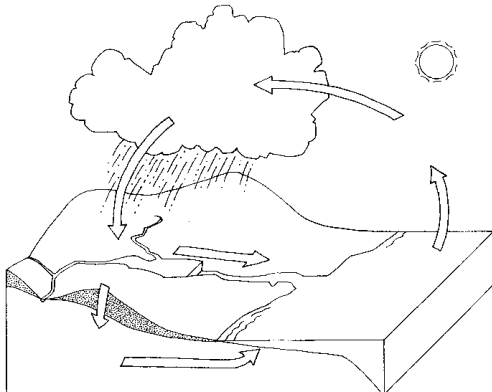
.....
.....
.....

3. Uved' v percentách, aké je zastúpenie vody na Zemi:



- pevnina
- voda
- ❖ z toho sladká voda v ľadovcoch
- ❖ slaná morská voda
- ❖ sladká voda v studniach, riekach

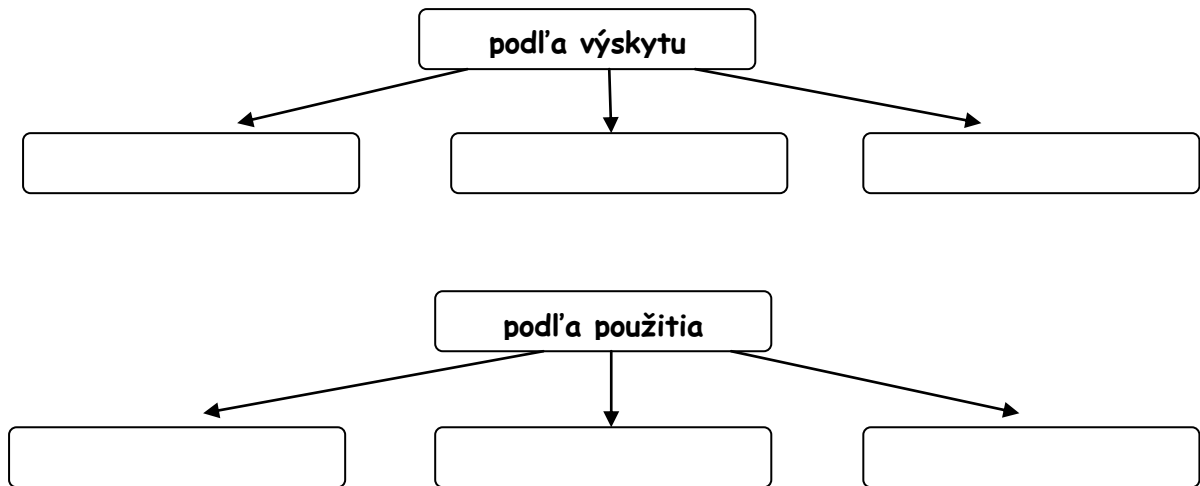
4. Stručne popíš kolobeh vody v prírode:



.....
.....
.....
.....
.....
.....
.....
.....



5. Doplň schému, ako rozlišujeme vodu podľa výskytu a podľa použitia:

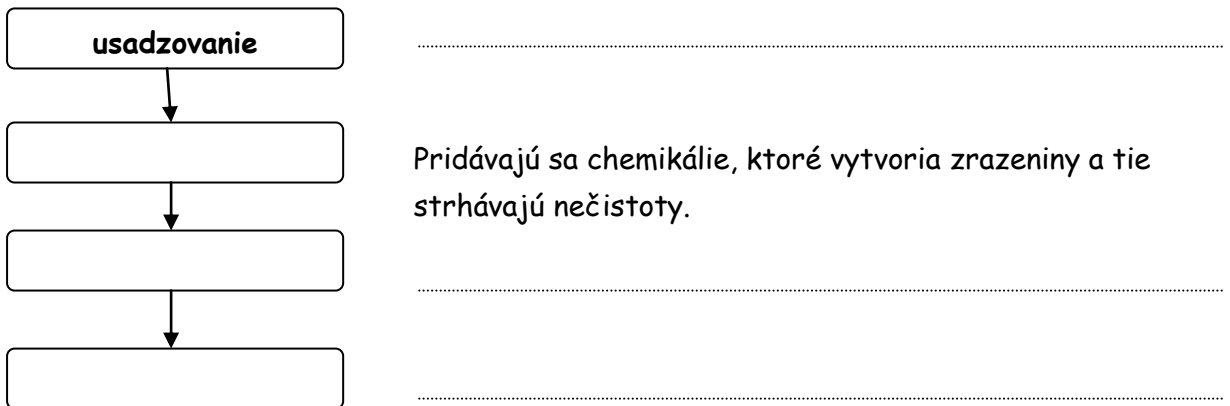


6. Slovensko je bohaté na minerálne vody aj kúpele, uveď po tri príklady:

kúpele:

minerálne vody (pramene):

7. Doplň schému úpravy podzemnej a povrchovej vody vo vodárni:



8. Vysvetli pojmy:

destilovaná voda

minerálna voda

.....

Spolu bodov:

Známka: